



आधार रेखा मूल्यांकन-2

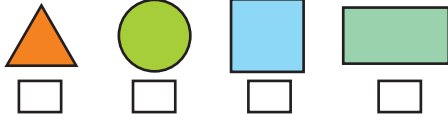
आकृति एवं स्थान समझ

1. (i) चित्रों को देखकर खिसकने वाली वस्तुओं पर (✓) सही का निशान लगाइए -




- (ii) पासे में कितने किनारे होते हैं?

- (iii) दिए गए चित्रों में से वर्ग पर सही (✓) का निशान लगाइए।



3. दिए गए चित्र को देखिए और तिकोने (\triangle) चौकोर (\square) तथा वृत्ताकार (\circ) आकृतियों में रंग भरिए और बताइए -



- (i) कितने तिकोने

- (ii) कितने वृत्ताकार

- (iii) त्रिभुज और वृत्ताकार आकृतियों में कितना अन्तर है।

.....

2. (i) दिए गए चित्र में जो बच्चा ऊपर है उस पर (✓) तथा जो नीचे है उस पर \circ बनाएं -

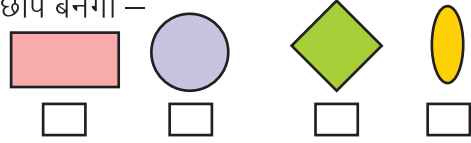


- (ii) मंगला के ठीक सामने कमला बैठी है तो सरिता के ठीक सामने कौन बैठा है?



.....
.....
.....

- (iii) आकृति के बाईं ओर के किनारे की छाप बनेगी -



संख्या ज्ञान की समझ

4. गिनकर मिलाइए -

11



5



204



5. गिनकर संख्याओं को अंकों व शब्दों में लिखिए -



अंकों में

शब्दों में

.....

.....

.....

.....

.....

.....

6. छूटी संख्या लिखिए -

(i) 15,, 17,,, 20

(ii) 47,,,, 51

(iii) 345,, 347,,, 350

7. मिलान कीजिए

(i) 10

नब्बे

(ii) 90

सात सौ छियालीस

(ii) 746

दस

8. निम्न संख्याओं में से सबसे छोटी तथा सबसे बड़ी संख्या लिखिए –

- (i) 15, 12, 18 सबसे छोटी संख्या सबसे बड़ी संख्या
- (ii) 46, 83, 76, 57 सबसे छोटी संख्या सबसे बड़ी संख्या
- (iii) 450, 345, 543, 435 सबसे छोटी संख्या सबसे बड़ी संख्या

संक्रियाओं की समझ

9. गिनकर खाली स्थान भरिए –

- (i)  +  =
- (ii)  +  =
- (iii)  +  +  =

10. हल कीजिए –

- (i) $\begin{array}{r} 18 \\ + 21 \\ \hline \end{array}$ (ii) $\begin{array}{r} 56 \\ + 74 \\ \hline \end{array}$ (iii) $\begin{array}{r} 346 \\ + 659 \\ \hline \end{array}$

11. हल कीजिए –


- (i) $\begin{array}{r} 89 \\ - 24 \\ \hline \end{array}$ (ii) $\begin{array}{r} 38 \\ - 29 \\ \hline \end{array}$ (iii) $\begin{array}{r} 504 \\ - 123 \\ \hline \end{array}$

12. (i) मिलान कीजिए –

- $4 + 4 + 4$ 5×3
 $3 + 3 + 3 + 3 + 3$ 3×4

(ii) 10 लड्डूओं से 5-5 लड्डूओं के..... समूह बनाए जा सकते हैं –

(iii) नीचे दिये चित्र के "एक-चौथाई हिस्से" में रंग भरिए।



13. (i) कक्षा 2 में 46 लड़के और 38 लड़कियाँ हैं, तो बताइए कक्षा में कुल कितने बच्चे हैं ?

.....

(ii) श्याम के पास 18 चॉकलेट है। उसने 12 चॉकलेट अपने मित्रों को दे दी बताओ श्याम के पास अब कितनी चॉकलेट बची ?

..... =

(iii) एक किताब में 64 पन्ने हैं। ऐसी ही 8 किताबों में कितने पन्ने होंगे ?

मापन की समझ

14. दी गई वस्तुओं को किस-किस अमानक इकाई से मापा जा सकता है।

- वस्तु अमानक इकाई
- पेन्सिल ,
- श्यामपट्ट ,
- कक्षा-कक्ष का दरवाजा ,

(अमानक इकाई)
बालिशत, हाथ,
अंगुल, कदम

15. रिक्त स्थानों में सप्ताह के छोटे हुए दिनों के नाम लिखिए –

(i) सोमवार गुरुवार

(ii) अगर आज शनिवार है तो परसों कौनसा दिन होगा ?

(iii) 120 मिनट = घंटे

16. किस बर्तन में सबसे ज्यादा पानी भरा जा सकता है? उस पर सही का निशान लगाइए–



(ii) किस बर्तन में जग से कम पानी भरा जाएगा ?

(iii) 1 लीटर =मिलीलीटर

17. इनका प्रयोग करके लिखिए –



(i) ₹ 12 =का नोट + का सिक्का

(ii) ₹ 71 =का नोट +का नोट +का सिक्का

(iii) ₹ 142 =का नोट +का नोट +का नोट +का नोट +का सिक्का

आंकड़ों का प्रबन्धन एवं पैटर्न की समझ

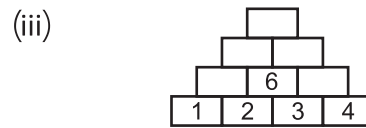
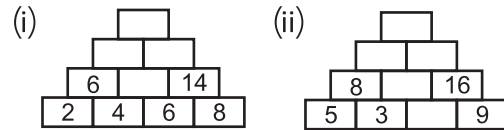
18. निम्न पैटर्न को पूरा कीजिए –

(i) ★★ △△ ★★ ,

(ii) 22, 24, 26, ,

(iii) 14, 28, 42, ,

19. पैटर्न पहचानकर खाली स्थान भरिए –



20. दूध का व्यवसाय करने वाले कुछ परिवारों में पालतू पशुओं की संख्या निम्नानुसार है –

2, 5, 4, 3, 2, 6, 5, 3, 3, 4, 2, 6, 5, 4 एवं 2

(i) इन आंकड़ों को नीचे दी गई सारणी में प्रदर्शित कीजिए–

(ii) 2 पशु रखने वाले परिवारों की संख्या कितनी है?

.....

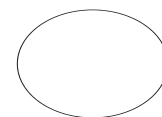
(iii) 5 से कम पशु रखने वाले परिवारों की कुल संख्या कितनी है?

पशुओं की संख्या	टेलीमार्क	परिवार संख्या
2		
3		
4		
5		
6		

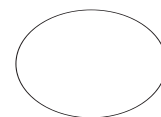
विद्यार्थी प्रदर्शन रिकॉर्ड

टिप्पणी

विद्यार्थी समूह



समूह-1



समूह-2